

Würfelkörper-Kartei (Lösungen)

zu Würfelkörper

⑨


Anzahl der  
fehlenden Würfel:

③

Anzahl der  
unsichtbaren Würfel:

①

Bauplan:



zu Würfelkörper

⑩

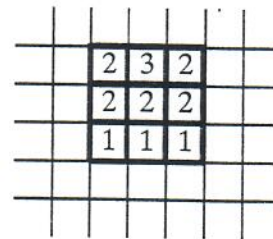
Anzahl der  
fehlenden Würfel:

⑪

Anzahl der  
unsichtbaren Würfel:

⑤

Bauplan:



zu Würfelkörper

⑪


Anzahl der  
fehlenden Würfel:

⑥

Anzahl der  
unsichtbaren Würfel:

④

Bauplan:



zu Würfelkörper

⑫


Anzahl der  
fehlenden Würfel:

⑦

Anzahl der  
unsichtbaren Würfel:

①

Bauplan:



Es gibt noch andere mögliche Lösungen!